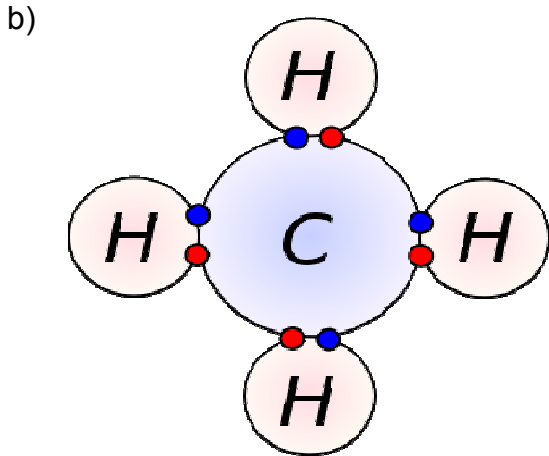
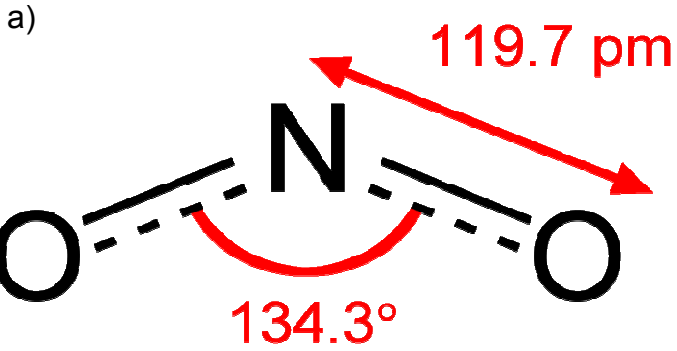


ÇALIŞMA YAPRAĞI

1. Kovalent bağı tanımlayınız.

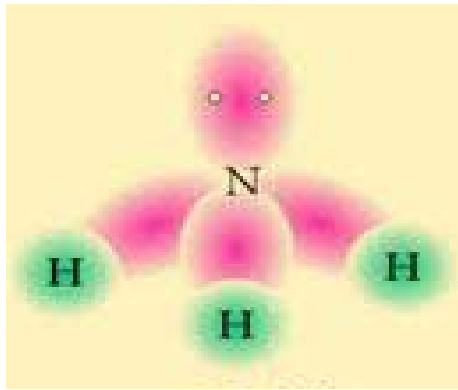
2. Apolar ve polar kovalent bağı tanımlayınız.

3. Aşağıdaki bileşiklerin polar veya apolar olduklarını belirleyiniz.



● Hidrojen elektronu
● Karbon elektronu

c)



d)



e)



f)

